



## 2º TRIMESTRE

### SALA DE RECURSOS MULTIFUNCIONAL

ESCOLA MUNICIPAL PROFESSOR SEBASTIÃO FELTRIN

PROFESSORA: CINTIA RODRIGUES BENICIO TURMA: B

ÁREAS TRABALHADAS: ÁREA DA LINGUAGEM, ÁREA DA MATEMÁTICA E ÁREA COGNITIVA.

DATA DA REALIZAÇÃO: DE 24 A 28 DE MAIO

ALUNO (A): \_\_\_\_\_ TURMA: 3º ANO



Senhores Pais e Responsáveis

**ESTAMOS INICIANDO O 2º TRIMESTRE, QUEREMOS AGRADECER A PARTICIPAÇÃO E O EMPENHO DAS FAMÍLIAS E DOS ALUNOS NESTE PROCESSO DE AULAS REMOTAS.** Vocês estão recebendo as **ATIVIDADES COMPLEMENTARES DE ESTUDO PARA O PERÍODO DE ISOLAMENTO – COVID 19, referente a semana de 24 A 28 DE MAIO de 2021.** Contamos com sua participação para que todas essas atividades sejam realizadas pelo seu filho.

No roteiro a seguir estão as atividades e todas as orientações para sua execução. Tudo está descrito de forma simples. Qualquer dúvida estaremos a disposição no WhatsApp.

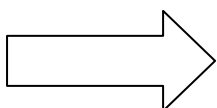
PEDAGOGA: SILVANA FESTI

|  |  |
|--|--|
| <b>VÍDEO OU ÁUDIO DA EXPLICAÇÃO DA PROF<sup>a</sup>.</b> | ASSISTA AO VÍDEO/ÁUDIO EXPLICATIVO DA PROFESSORA.  |
| <b>O QUE VAI ESTUDAR?</b>                                | ÁREA COGNITIVA: PERCEPÇÃO VISUAL, MEMÓRIA.<br>ÁREA DA MATEMÁTICA: SITUAÇÕES PROBLEMAS (ADIÇÃO E SUBTRAÇÃO SIMPLES).<br>ÁREA DA LINGUAGEM: LEITURA, ESCRITA E INTERPRETAÇÃO DE TEXTO.   |
| <b>PARA QUÊ VAMOS ESTUDAR ESSES CONTEÚDOS?</b>           | VALORIZAR A LEITURA COMO FONTE DE CONHECIMENTO.<br>APRIMORAR AS HABILIDADES DE PERCEPÇÃO DAS LINGUAGENS ENVOLVIDAS NA LEITURA.<br>IDENTIFICAR FATOS NO TEXTO, AMPLIAR SEU VOCABULÁRIO.<br>RESOLVER PROBLEMAS MATEMÁTICOS.<br>SELECIONAR, ORGANIZAR, RELACIONAR E INTERPRETAR DADOS E INFORMAÇÕES PARA TOMADAS DE DECISÕES E RESOLUÇÃO DE SITUAÇÃO PROBLEMA.<br>IDENTIFICAR, CLASSIFICAR E ARMAZENAR A INFORMAÇÃO APRESENTADA VISUALMENTE.<br>TRABALHAR A COORDENAÇÃO VISUAL MOTORA.<br>DESPERTAR A ATENÇÃO E CONCENTRAÇÃO. |
| <b>COMO VAMOS ESTUDAR</b>                                | AS ATIVIDADES PROPOSTAS DEVEM SER REALIZADAS NOS   |

|   |   |
|---|---|
| <b>ESSES CONTEÚDOS</b>                        | ROTEIROS IMPRESSOS. ORGANIZE UM AMBIENTE TRANQUÍLO E FIQUE ATENTO AS EXPLICAÇÕES DADAS PELA PROFESSORA NO WHATSAPP.   |
| <b>COMO VAMOS REGISTRAR O QUE APRENDEMOS?</b> | BUSCANDO AS ATIVIDADES IMPRESSAS NA ESCOLA. LENDO E PREENCHENDO DE ACORDO COM AS ORIENTAÇÕES AS ATIVIDADES ENVIADAS COMPLETAMENTE, SEM DEIXAR NADA EM BRANCO OU INCOMPLETO. OUVINDO ATENTAMENTE AS EXPLICAÇÕES QUE A PROFESSORA ENVIA PELO WHATSAPP E CHAMANDO QUANDO NÃO ENTENDER OU CONSEGUIR FAZER AS ATIVIDADES. DEVOLVENDO AS ATIVIDADES SEMANALMENTE PARA QUE A PROFESSORA FAÇA AS CORREÇÕES NECESSÁRIAS. |

**ATENÇÃO:** Qualquer dúvida estou a disposição por whatsapp das 13h as 17h.

## ÁREA DA LINGUAGEM



- 1) LEIA AS FRASES E RESPONDA AS QUESTÕES ABAIXO.
- 2)

**MARIA E PAULO COMPRARAM UM PRESENTE PARA O ANIVERSÁRIO DE PEDRO NO DOMINGO.**

A) QUEM COMPROU UM PRESENTE PARA PEDRO?

\_\_\_\_\_

B) QUAL O NOME DO ANIVERSARIANTE?

\_\_\_\_\_

C) QUE DIA SERÁ O ANIVERSÁRIO DE PEDRO?

\_\_\_\_\_

**JORGE PEGOU SUA BICICLETA VERDE PARA ANDAR EM VOLTA DE SUA CASA.**

A) O QUE JORGE PEGOU?

\_\_\_\_\_

B) ONDE ELE IA ANDAR DE BICICLETA?

\_\_\_\_\_

C) QUAL É A COR DA BICICLETA DE JORGE?

\_\_\_\_\_

**LAURA VAI AO ZOOLOGICO COM SUA MÃE NA TERÇA-FEIRA, VER OS ANIMAIS QUE MORAM LÁ.**

A) ONDE LAURA VAI?

---

B) QUE DIA LAURA VAI AO ZOOLOGICO?

---

C) COM QUEM LAURA IRÁ AO ZOOLOGICO?

---

**MEU PRIMO GOSTA DE JOGAR VIDEOGAME NA MINHA CASA.**

A) QUEM GOSTA DE JOGAR VIDEOGAME?

---

B) ONDE ELE GOSTA DE JOGAR?

---

C) O QUE ELE GOSTA DE JOGAR?

---

## **ÁREA DA MATEMATICA**

RESOLVA AS SITUAÇÕES PROBLEMAS.

1-CLAUDIO COLHEU 36 MANGAS NO POMAR E BEATRIZ 12.QUANTAS MANGAS CLAUDIO E BEATRIZ COLHERAM JUNTOS?

RESPOSTA:\_\_\_\_\_

2-SÉRGIO GANHOU UM LIVRO DE HISTÓRIAS COM 45 FOLHAS ESCRITAS E 14 FOLHAS COM ILUSTRAÇÕES.QUANTAS FOLHAS TEM O LIVRO?

RESPOSTA:\_\_\_\_\_

3-MARINA TINHA 45 REAIS, AO PASSAR POR UMA LOJA VIU UMA BOLSA E COMPROU, GASTOU 15 REAIS NA COMPRA DA BOLSA, QUANTO SOBROU?

RESPOSTA:\_\_\_\_\_


4-CARLOS TEM 56 REAIS, MAS SEU PRIMO PEDIU 24 REAIS EMPRESTADO, COM QUANTO QUE CARLOS FICOU?

RESPOSTA:\_\_\_\_\_

## ÁREA COGNITIVA

1-JOGO DOS 7 ERROS.

OBSERVE AS DUAS IMAGENS DOS HELICÓPTEROS,DESCUBRA AS 7 DIFERENÇAS QUE HÁ ENTRE AS IMAGENS.




AGORA ESCREVA UMA FRASE COM A PALAVRA **HELICÓPTERO**

---

---

2-VAMOS AJUDAR O SACI A CHEGAR ATÉ O SEU CACHIMBO.



3-Vamos jogar o **jogo da memória**?

SIGA AS INSTRUÇÕES:

- Escreva o nome de cada figura no espaço abaixo da imagem.
- Recorte no pontilhado, separando-as.
- Coloque de um lado as figuras e de outro as palavras escritas.
- Convide uma pessoa para jogar com você.
- Misture todas as peças, imagens e escrita, tente memorizar a imagem e a palavra com o nome da imagem, vire as peças ao contrário e comece a jogar, ganha quem reunir o maior número de pares certos, os pares são: a imagem e a escrita da palavra da imagem.

DEPOIS DE JOGAR DEIXE SUA IMPRESSÃO . A ATIVIDADE FOI

( ) FÁCIL      ( ) DIFÍCIL      ( ) SUPER DIFÍCIL

# JOGO DA MEMÓRIA

